

Naam: .....

Tel de inhoud van de maatbekers bij elkaar op.

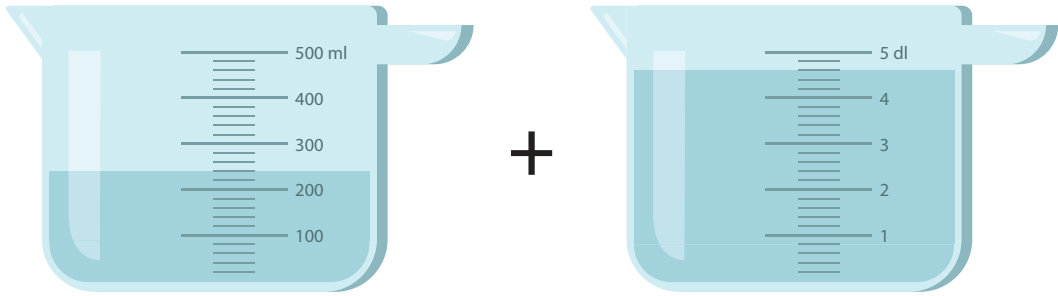
0,7 L  
 0,8 L  
 0,9 L

0,52 L  
 0,54 L  
 0,56 L

0,475 L  
 0,525 L  
 0,575 L

0,625 L  
 0,650 L  
 0,675 L

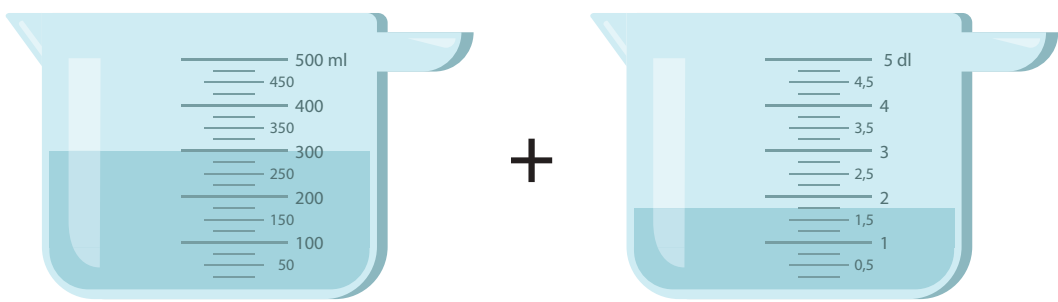
Tel de inhoud van de maatbekers bij elkaar op.



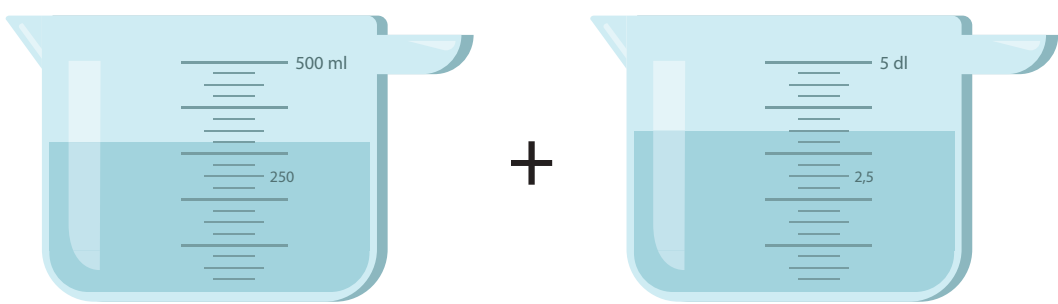
0,7 L  
 0,8 L  
 0,9 L



0,52 L  
 0,54 L  
 0,56 L



0,475 L  
 0,525 L  
 0,575 L



0,625 L  
 0,650 L  
 0,675 L