



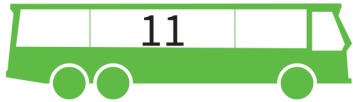
# Bussommen tot en met 20 [1]

Rekenen

Naam: .....

Groep: .....

**Kinderen stappen uit de bus. Hoeveel kinderen zitten er nog in de bus?**



→ 5 .....



→ 3 .....



→ 6 .....



→ 7 .....



→ 3 .....



→ 4 .....



→ 4 .....



→ 2 .....



→ 9 .....



→ 6 .....



→ 12 .....



→ 1 .....

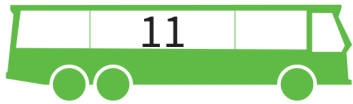


→ 10 .....



→ 5 .....

Kinderen stappen uit de bus. Hoeveel kinderen zitten er nog in de bus?



→ 5

6



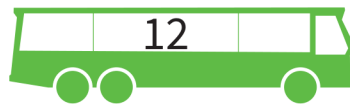
→ 3

17



→ 6

12



→ 7

5



→ 3

12



→ 4

13



→ 4

8



→ 2

13



→ 9

10



→ 6

14



→ 12

4



→ 1

13



→ 10

3



→ 5

5