



# Bussommen tot en met 12 [3]

Rekenen


Naam: .....

Groep: .....

**Kinderen stappen uit de bus. Hoeveel kinderen zitten er nog in de bus?**



→ 2 .....



→ 2 .....



→ 5 .....



→ 3 .....



→ 1 .....



→ 6 .....



→ 5 .....



→ 4 .....



→ 1 .....



→ 1 .....



→ 9 .....



→ 6 .....



→ 1 .....



→ 1 .....


Kinderen stappen uit de bus. Hoeveel kinderen zitten er nog in de bus?




→ 2    2




→ 2    3




→ 5    7




→ 3    5




→ 1    0




→ 6    4



→ 5    5




→ 4    0



→ 1    6




→ 1    11




→ 9    3



→ 6    3



→ 1    2



→ 1    10